

A map of the Roman Empire, with the empire's territory shaded in light blue. The map shows the Mediterranean Sea, the Atlantic Ocean, and the Indian Ocean. The text 'Lingua Latīna' is written in a large, red, serif font across the center of the map. Below it, the text 'Capitulum I - Imperium Rōmānum' is written in a smaller, red, serif font.

Lingua Latīna

Capitulum I - Imperium Rōmānum

Imperium Rōmānum est.



Imperium Rōmānum magnum est!



Ecce Italia.



Italia in Eurōpā est.



Estne Italia in Eurōpā? Ita aut minimē?



Ita! Italia in Eurōpā est!



Ecce Aegyptus.



Estne Aegyptus in Eurōpā? Ita aut minimē?



Minimē! Aegyptus in Eurōpā nōn est.



Ubi est Aegyptus?



Aegyptus in Āfricā est.



Ecce Gallia.



Estne Gallia in Asiā? Ita aut minimē?



Ubi est Gallia?



Ubi est Rōma?



Ubi est Hispānia?



Ubi sunt Hispānia et Gallia?



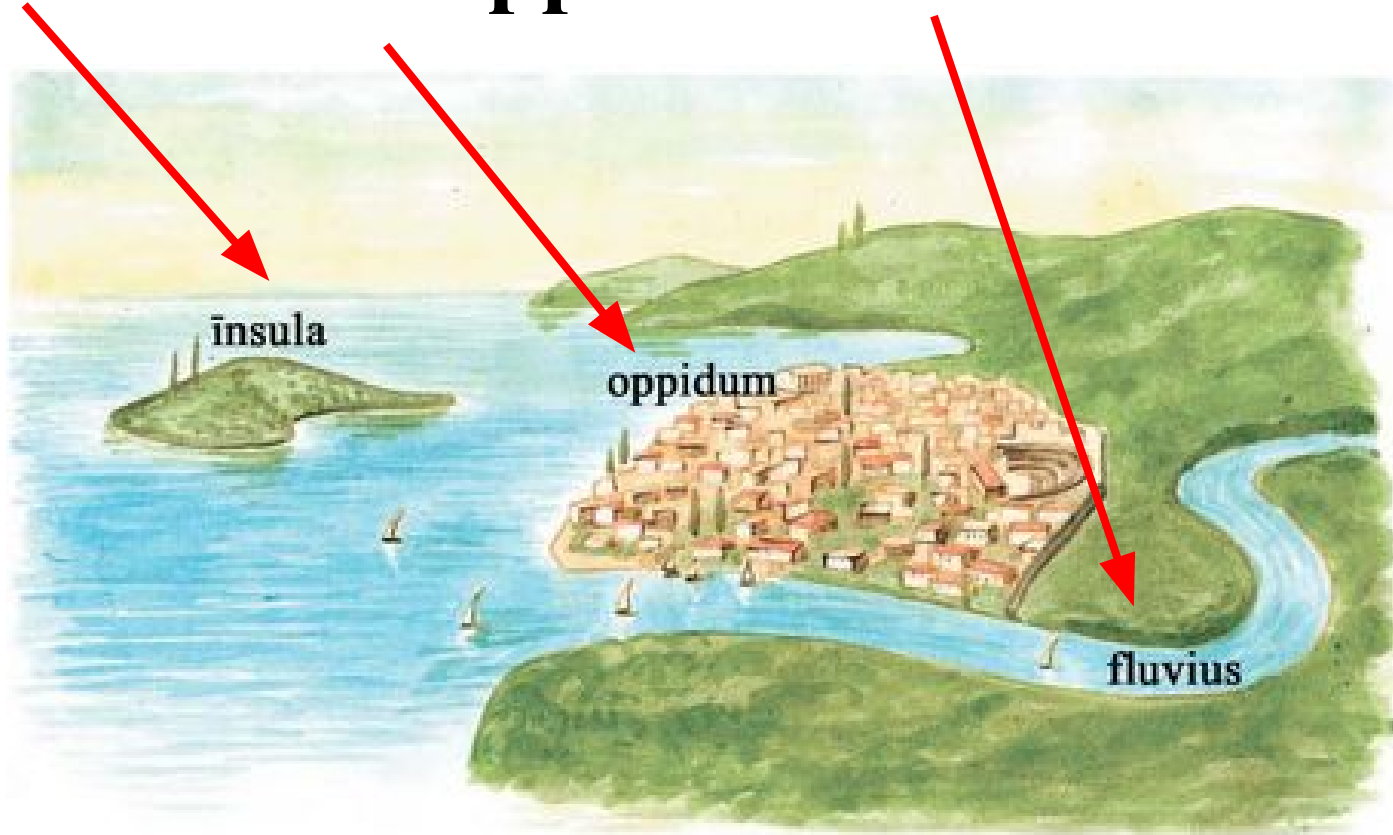
Hispānia et Gallia sunt in Eurōpā!



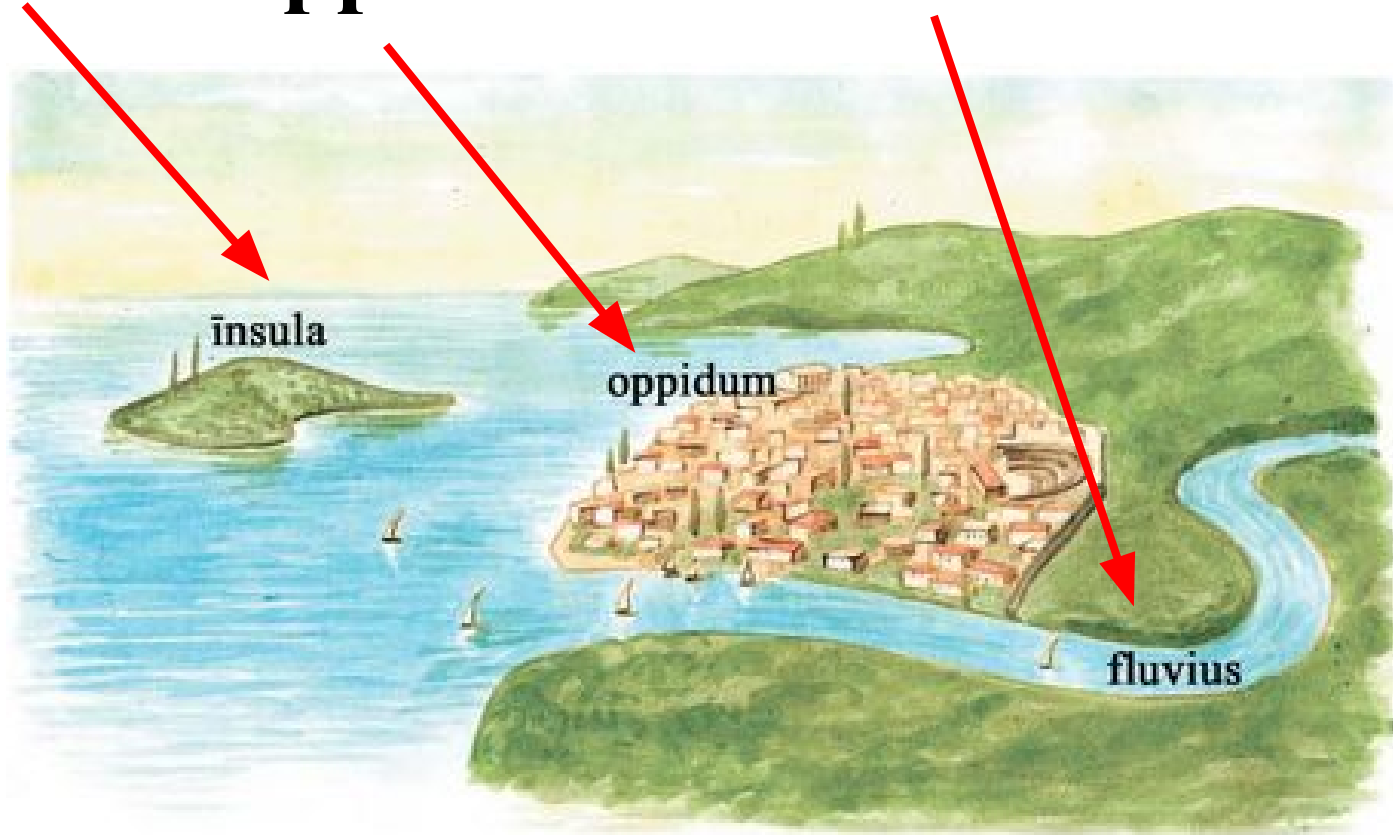
Ubi sunt Arābia et Syria?



Ecce īnsula et oppidum et fluvius.



Īnsula et oppidum et fluvius sunt.



Estne fluvius?



Estne īnsula?



Quid est?



Estne oppidum?



Quid est?



Quid est?



Quid est?



Quid est Britannia?



Britannia est īnsula.



Estne Hispānia īnsula?



Estne Sicilia īnsula?



Lectiō II



Oppidum Romānum est.



Duo oppida Romāna sunt.



Oppidum parvum est.



Oppidum magnum est.



Estne oppidum parvum?



Estne oppidum magnum?



Estne oppidum parvum aut magnum?



Estne īnsula magna?



Estne oppidum?



Est fluvius magnus aut parvus?



Fluvius parvus est.



Estne fluvius magnus?



Estne parvus fluvius?



Minimē! Est fluvius Nīlus et magnus est.



Ubi est fluvius Nīlus?





In imperiō Rōmānō sunt multī fluvii.



Quot flūviī sunt in Eurōpā?

Suntne multī aut paucī flūviī in Āfricā?



Imperium Romānum est.



AFRICA

ASIA

EUROPA

GALLIA

ITALIA

GRAECIA

ASIA

MARE INTERNUM

Germania

Sarmatia

Britannia

Germania inf.

Germania sup.

Lugdunensis

Belgica

Raetia

Noricum

Pannonia

Dacia

Aquitania

Gallia Cisalpina

ILLYRIUM

Dalmatia

Moesia sup.

Moesia inf.

Pontus Euxinus

Gallaecia et Asturia

Terraconensis

Corsica

Roma

Macedonia

Epirus

Thracia

Bithynia

Pontus

Armenia

HISPANIA

Lusitania

Baleares

Sardinia

Mare Tyrrenum

Sicilia

Macedonia

Phrygia

Galatia

Cappadocia

HISPANIA

Lusitania

Baetica

Baleares

Sardinia

Mare Tyrrenum

Sicilia

Achaia

Mare Aegaeum

Lycia

Cilicia

Mauretania

Numidia sup.

Numidia inf.

Africa

proconsularis

Cyrenaica

Aegyptus

Palestina

Arabia

Mesopotamia

Syria

ASIA

Baetica quoque est prōvincia.



Baetica et Aquitania prōvinciae Romānae sunt.



Ubi est prōvincia Lusitānia?



AFRICA

ASIA

Lectiō III



Ecce numerī Rōmānī

I = ūnus (1)

II = duo (2)

III = trēs (3)

CIƆ (M) = mīlle (1000)

Estne ūnus (I) numerus magnus aut parvus?

I = 1		V = 5		X = 10	
I	II	III	IV	V	
1	2	3	4	5	
VI	VII	VIII	IX	X	
6	7	8	9	10	
XI	XII	XIII	XIV	XV	
11	12	13	14	15	
XVI	XVII	XVIII	XIX	XX	
16	17	18	19	20	

Estne vigintī (XX) numerus magnus aut parvus?

I = 1		V = 5		X = 10	
I	II	III	IV	V	
1	2	3	4	5	
VI	VII	VIII	IX	X	
6	7	8	9	10	
XI	XII	XIII	XIV	XV	
11	12	13	14	15	
XVI	XVII	XVIII	XIX	XX	
16	17	18	19	20	

Litterae Rōmānae

A = “ā” (*ahh*)

B = “bē” (*bay*)

C = “cē” (*kay*)

D = “dē” (*day*)

E = “ē” (*ayy*)

F = “ēf” (*eff*)

G = “gē” (*gay*)

H = “hā” (*ha*)

I = “ī” (*eee*)

K = “kā” (*kah*)

L = “ēl” (*ell*)

M = “ēm” (*em*)

Litterae Rōmānae

N = “ēn” (*enn*)

T = “tē” (tay)

O = “ō” (*oh*)

U = “ū” (oo!)

P = “pē” (*pay*)

V = “vē” (way)

Q = “cū” (*coo*)

X = “ix” (eeks)

R = “er” (air)

Y = “ypsīlon” (oopsilon)

S = “es” (ess)

Z = “zēta” (zay-tah)

Litterae Rōmānae et Graecae

A = “ā” (*ahh*)

B = “bē” (*bay*)

C = “cē” (*kay*)

D = “dē” (*day*)

α = “alpha”

β = “beta”

Γ = “gamma”

Δ = “delta”

Estne ‘alpha’ littera Rōmāna?

α


Estne “bē” littera Graeca?

B

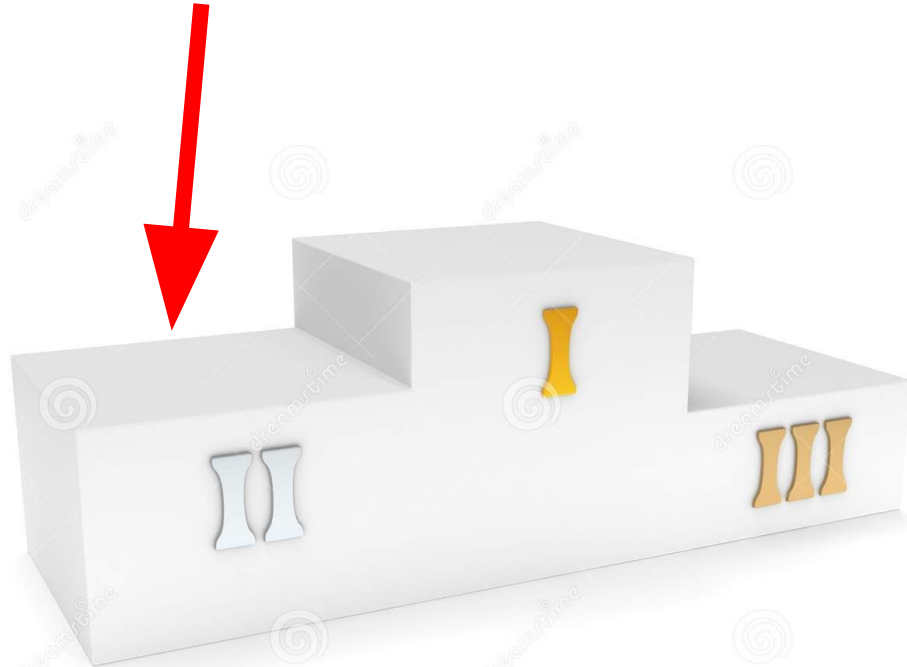
Prīmus, Secundus, Tertius...




Prīmus...




Secundus...



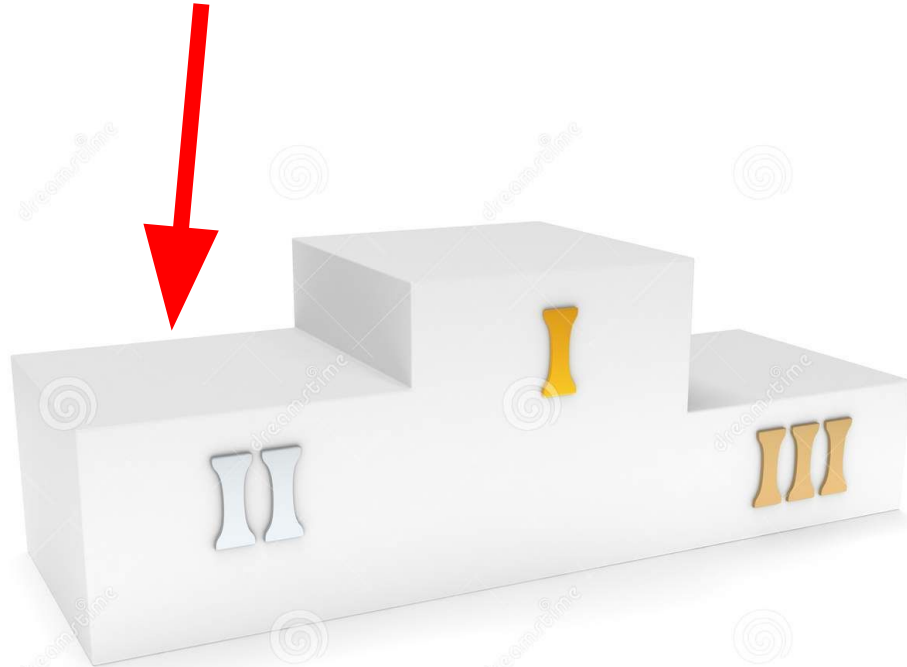
Tertius!




Estne prīmus, secundus aut tertius?



Estne secundus?



Quī numerus est? Estne secundus?



Quī numerus est?

